



NOME: _____

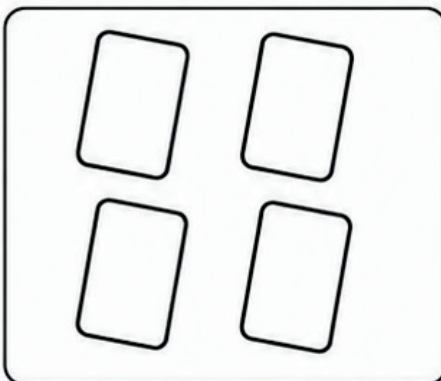

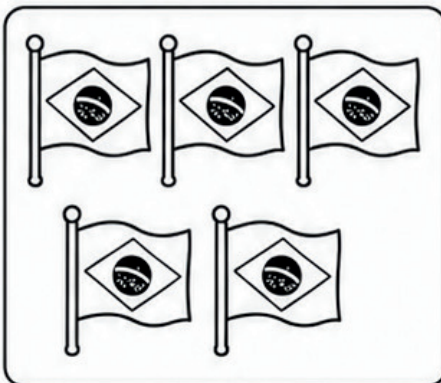
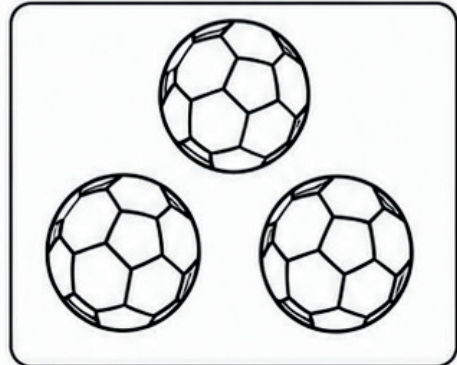

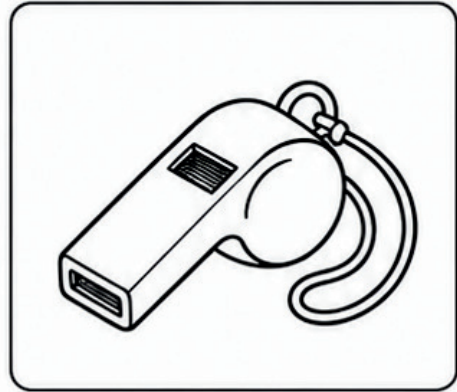
DATA: ____/____/____



MATEMÁTICA NA COPA DO MUNDO



REGISTRE AO LADO DE CADA CONJUNTO A QUANTIDADE CORRESPONDENTE.



NOME: _____ DATA: ___/___/___



MATEMÁTICA

NA COPA DO MUNDO



COMPLETE OS CONJUNTOS PARA QUE FIQUEM COM A QUANTIDADE INDICADA NOS QUADRINHOS.

6

8

10

7

9

4

5

8

3

1





NOME: _____ DATA: ____/____/____

MATEMÁTICA

NA COPA DO MUNDO

CONTANDO COM A SELEÇÃO!

CONTE OS ELEMENTOS DE CADA QUADRO, ESCREVA QUANTOS SÃO E PINTE O NÚMERO CORRESPONDENTE.



QUANTOS SÃO?

7

8

9

10

11



QUANTOS SÃO?

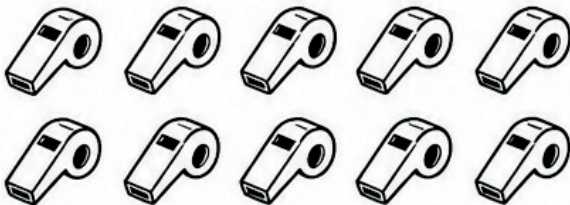
8

9

10

11

12



QUANTOS SÃO?

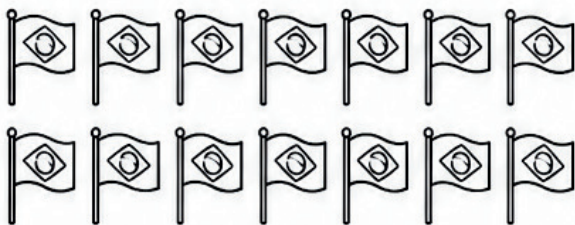
9

10

11

12

13



QUANTOS SÃO?

11

12

13

14

15



QUANTOS SÃO?

13

14

15

16

17



NOME: _____

DATA: ____/____/____




MATEMÁTICA

NA COPA DO MUNDO



1 CONTAR E PINTAR

CONTE QUANTOS ELEMENTOS HÁ EM CADA QUADRO.
DEPOIS, PINTE OS ELEMENTOS DE ACORDO COM A LEGENDA.



- = VERDE
- = AMARELO
- = AZUL
- = CINZA
- = VERMELHO
- = LARANJA
- = ROXO
- = MARROM

ELEMENTO	QUANTIDADE

DEZENAS E UNIDADES

ESCREVA QUANTAS DEZENAS (D) E UNIDADES (U) TEM CADA NÚMERO.

NÚMERO	DEZENAS (D)	UNIDADES (U)	NÚMERO	DEZENAS (D)	UNIDADES (U)
14	1 DEZENA	4 UNIDADES	11		
17			18		
12			13		
19			20		
16			15		





NOME: _____ DATA: ____/____/____

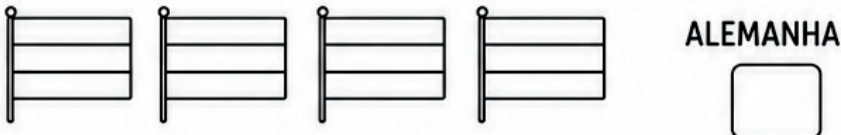
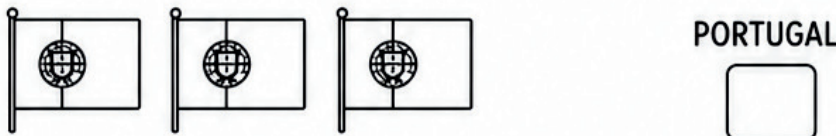
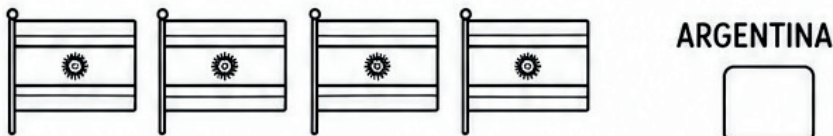
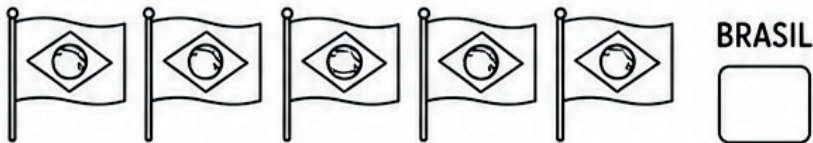


MATEMÁTICA

NA COPA DO MUNDO

1 CONTAGEM DE BANDEIRAS

CONTE AS BANDEIRAS E ESCREVA QUANTAS HÁ DE CADA PAÍS.



QUAL PAÍS TEM MAIS BANDEIRAS? _____

QUAL PAÍS TEM MENOS BANDEIRAS? _____

FORMAS GEOMÉTRICAS NA BOLA

PINTE A QUANTIDADE DE FORMAS GEOMÉTRICAS QUE APARECEM NA BOLA ABAIXO.



SITUAÇÕES-PROBLEMA

A) NA TORCIDA DO BRASIL HAVIA 9 CRIANÇAS. CHEGARAM MAIS 6 CRIANÇAS. QUANTAS CRIANÇAS FICARAM AO TODO?

CÁLCULO:

_____ + _____ = _____

RESPOSTA:



B) MARIA TINHA 15 FIGURINHAS DA COPA. DEU 7 PARA O SEU AMIGO. COM QUANTAS FIGURINHAS ELA FICOU?

CÁLCULO:

_____ - _____ = _____

RESPOSTA:





NOME: _____

DATA: ____/____/____



MATEMÁTICA

NA COPA DO MUNDO



1 COMPLETE O PLACAR

VEJA O NÚMERO DE GOLS QUE CADA SELEÇÃO FEZ E COMPLETE O PLACAR.



BRASIL



ARGENTINA



QUEM FEZ MAIS GOLS? _____

QUEM FEZ MENOS GOLS? _____

2 PROBLEMINHA DA COPA

O BRASIL FEZ 2 GOLS NO PRIMEIRO TEMPO E 1 GOL NO SEGUNDO TEMPO.
QUANTOS GOLS O BRASIL FEZ AO TODO?




RESPOSTA:

GOLS.

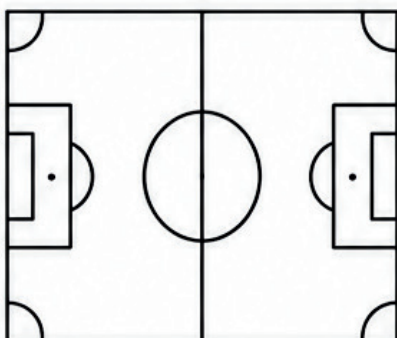
3 SEQUÊNCIA NUMÉRICA DA TORCIDA

COMPLETE OS NÚMEROS NAS CAMISETAS DOS JOGADORES.



4 FORMAS GEOMÉTRICAS NO CAMPO

OBSERVE O CAMPO DE FUTEBOL E PINTE AS FORMAS GEOMÉTRICAS DE ACORDO COM A LEGENDA.



- CÍRCULO - VERDE
- QUADRADO - AZUL
- RETÂNGULO - AMARELO
- TRIÂNGULO - VERMELHO

5 MEDALHA DOS NÚMEROS

PINTE APENAS OS NÚMEROS PEDIDOS.



PINTE OS NÚMEROS 8.





NOME: _____

DATA: ____/____/____



MATEMÁTICA NA COPA DO MUNDO



SOME E ESCREVA O RESULTADO.

1



$3 + 2 = \square$

2



$4 + 3 = \square$

3



$2 + 5 = \square$

4



$1 + 3 = \square$

5



$2 + 4 = \square$

6



$3 + 2 = \square$

7



$5 + 3 = \square$

8



$4 + 2 = \square$

9



$3 + 4 = \square$

10



$2 + 4 = \square$

DESAFIO EXTRA!

RESOLVA AS CONTINHAS E PINTE OS RESULTADOS!

$2 + 6 = \square \quad 1 + 7 = \square \quad 3 + 5 = \square \quad 6 + 4 = \square$



RUMO AO HEXA!





NOME: _____

DATA: ___/___/___



MATEMÁTICA

NA COPA DO MUNDO



Leia:

Na Copa do Mundo, os times jogam futebol para marcar gols. As bolas, os troféus e as bandeiras ajudam a representar esse grande campeonato.

QUESTÃO 1

Observe as bolas e conte.



Quantidade: _____

QUESTÃO 2

Observe os troféus e conte.




Quantidade: _____

QUESTÃO 3

Qual grupo tem MAIS objetos?

Grupo A

Grupo B



() Grupo A

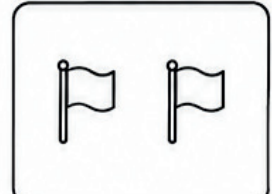
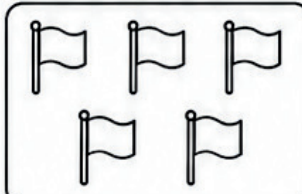
() Grupo B

QUESTÃO 4

Qual grupo tem MENOS objetos?

Grupo A

Grupo B



() Grupo A

() Grupo B

QUESTÃO 5

Resolva.

**QUESTÃO 6**

Resolva.



Tire 1 troféu.

Quantos sobraram?

Resposta: _____

QUESTÃO 7

Complete a sequência numérica.

1 - 2 - 3 - _____ - _____ - _____

QUESTÃO 8

Observe os gols marcados.

Time Azul

Time Verde

Qual time marcou mais gols?



NOME: _____

DATA: ____/____/____



MATEMÁTICA NA COPA DO MUNDO



ESCREVA EM CADA CAMISETA O NÚMERO POR EXTENSO:





NOME: _____ DATA: ____/____/____

MATEMÁTICA NA COPA DO MUNDO



ESCREVA OS NÚMEROS EM ORDEM CRESCENTE E DECRESCENTE.

Em ordem crescente:

10 3 7 1 9 4 6 2 8 5



Em ordem decrescente:

10 3 7 1 9 4 6 2 8 5





ATENÇÃO: AVISO IMPORTANTE SOBRE DIREITOS AUTORAIS

Posso compartilhar o material com outros professores?

O material é oferecido para uso pessoal e em sala de aula. Contudo, é fundamental respeitar os direitos autorais:

- Permitido: Imprimir quantas vezes desejar para uso com seus alunos. Se quiser enviar para outros professores, pedimos que, por gentileza, **compartilhar material usando o link do artigo do Blog Ello Educar.**
- Não permitido: Qualquer forma de plágio, cópia, reprodução, redistribuição ou venda, total ou parcial, sem autorização da autora **Lídia Maria Sousa de Lima**, conforme a Lei nº 9.610/98.

Agradecemos pela leitura e por valorizar nosso esforço, feito com dedicação para apoiar o seu dia a dia na educação.

Gostou desse material?

Nos siga em nossas redes sociais e fique por dentro das nossas atualizações



[@_elloeducar](https://www.instagram.com/_elloeducar)



Blog [Ello Educar](#)



[Ello Educar](#)



Fale conosco por meio de nossa e-mail:

contato@elloeducar.com.br

Ou através de nosso formulário de contato

[Contado - Ello Educar](#)



Acompanhe o nosso blog e não perca nenhuma atualização!

Adicione nosso site aos seus favoritos e tenha acesso diário a conteúdos educativos, artigos exclusivos, planos de aula e sugestões de atividades para enriquecer sua prática pedagógica. Inspire-se, compartilhe e transforme sua sala de aula com a gente!



[Blog Ello Educar](#)