



COPA DO MUNDO 2026



Nome: _____ Data: ___/___/___

★ Atividades de português ★

1. LEIA O TEXTO.

HOJE É DIA DE JOGO DA COPA DO MUNDO.
 ANA ACORDOU CEDO E VESTIU A CAMISA DO SEU TIME.
 ELA ASSISTIU AO JOGO COM SUA FAMÍLIA E
 TORCEU MUITO.
 QUANDO O SEU TIME FEZ GOL, ANA FICOU
 MUITO FELIZ!



2. RESPONDA.

1 QUEM É A PERSONAGEM DO TEXTO?

2 O QUE ANA FEZ AO ACORDAR?

() DORMIU. () VESTIU A CAMISA. () SAIU PARA BRINCAR.

3 COM QUEM ANA ASSISTIU AO JOGO?

4 COMO ANA FICOU QUANDO O TIME FEZ O GOL?

5 RETIRE DO TEXTO:

A) UMA PALAVRA COM 2 SÍLABAS.

B) UMA PALAVRA COM 3 SÍLABAS.

6 O QUE ANA VESTIU?



UM VESTIDO.



A CAMISA DO TIME.



UM CASACO.





COPA DO MUNDO 2026



Nome: _____ Data: ____/____/____

★ Atividades de português ★

1. LEIA O TEXTO.

HOJE É DIA DE JOGO DA COPA DO MUNDO.

ANA ACORDOU CEDO E VESTIU A CAMISA DO SEU TIME.

ELA ASSISTIU AO JOGO COM SUA FAMÍLIA E TORCEU MUITO.

QUANDO O SEU TIME FEZ GOL, ANA FICOU MUITO FELIZ!



2. RESPONDA.

1 QUEM É A PERSONAGEM DO TEXTO?

2 O QUE ANA FEZ AO ACORDAR?

() DORMIU. () VESTIU A CAMISA. () SAIU PARA BRINCAR.

3 COM QUEM ANA ASSISTIU AO JOGO?

4 COMO ANA FICOU QUANDO O TIME FEZ O GOL?

5 RETIRE DO TEXTO:

A) UMA PALAVRA COM 2 SÍLABAS.

B) UMA PALAVRA COM 3 SÍLABAS.

6 O QUE ANA VESTIU?



UM VESTIDO.



A CAMISA DO TIME.



UM CASACO.





COPA DO MUNDO 2026



Nome: _____ Data: ____/____/____

★ Atividades de Português ★

LEIA A HISTÓRIA EM QUADRINHOS.



AGORA, RESPONDA COM ATENÇÃO.

1 QUAL É O TÍTULO DA HISTÓRIA?

- A) A ESCOLA
- B) A COPA DO MUNDO 2026
- C) UM PASSEIO NO PARQUE

2 QUANTOS QUADRINHOS TEM A HISTÓRIA?

- A) 2
- B) 3
- C) 4

3 EM QUAIS PAÍSES SERÁ A COPA DO MUNDO 2026?

_____, _____ E _____.

4 O QUE AS CRIANÇAS VÃO FAZER?

- A) DORMIR
- B) TORCER PELO BRASIL
- C) IR À PRAIA

5 O QUE AS CRIANÇAS ESTÃO FAZENDO NO TERCEIRO QUADRINHO?

- A) LENDO UM LIVRO
- B) ASSISTINDO AO JOGO
- C) BRINCANDO NO PARQUINHO


6 O QUE ACONTECEU NO FINAL DA HISTÓRIA?

- A) O BRASIL PERDEU O JOGO.
- B) O BRASIL FOI CAMPEÃO.
- C) A PARTIDA FOI CANCELADA.

7 COMO AS CRIANÇAS SE SENTIRAM NO FINAL?

8 QUAL É A SUA PARTE PREFERIDA DA HISTÓRIA?

9 DESENHE O QUE VOCÊ MAIS GOSTA NA COPA DO MUNDO.



★ ★ ★ VAMOS TORCER PELO BRASIL! ★ ★ ★



COPA DO MUNDO 2026



Nome: _____ Data: ____/____/____

★ Atividades de Português ★

LEIA A HISTÓRIA EM QUADRINHOS.



AGORA, RESPONDA COM ATENÇÃO.

1 QUAL É O TÍTULO DA HISTÓRIA?

- A) A ESCOLA
- B) A COPA DO MUNDO 2026
- C) UM PASSEIO NO PARQUE

2 QUANTOS QUADRINHOS TEM A HISTÓRIA?

- A) 2
- B) 3
- C) 4

3 EM QUAIS PAÍSES SERÁ A COPA DO MUNDO 2026?

_____, _____ E _____.

4 O QUE AS CRIANÇAS VÃO FAZER?

- A) DORMIR
- B) TORCER PELO BRASIL
- C) IR À PRAIA

5 O QUE AS CRIANÇAS ESTÃO FAZENDO NO TERCEIRO QUADRINHO?

- A) LENDO UM LIVRO
- B) ASSISTINDO AO JOGO
- C) BRINCANDO NO PARQUINHO

6 O QUE ACONTECEU NO FINAL DA HISTÓRIA?

- A) O BRASIL PERDEU O JOGO.
- B) O BRASIL FOI CAMPEÃO.
- C) A PARTIDA FOI CANCELADA.

7 COMO AS CRIANÇAS SE SENTIRAM NO FINAL?

8 QUAL É A SUA PARTE PREFERIDA DA HISTÓRIA?

9 DESENHE O QUE VOCÊ MAIS GOSTA NA COPA DO MUNDO.



★ ★ ★ VAMOS TORCER PELO BRASIL! ★ ★



COPA DO MUNDO 2026



Nome: _____ Data: ___/___/___

★ Atividades de português ★

1 ENCONTRE E PINTE NO QUADRO ABAIXO AS PALAVRAS QUE FIZERAM PARTE DOS NOSSOS ESTUDOS:

- ❖ BOLA
- ❖ CAMPEÃO
- ❖ ESTÁDIO
- ❖ MASCOTE
- ❖ RESPEITO

A	P	E	S	T	Á	D	I	O
M	A	S	C	O	T	E	Z	X
P	R	E	S	P	E	I	T	O
U	I	T	V	C	M	S	A	K
C	A	M	P	E	Ã	O	Y	L
E	F	U	J	B	O	L	A	T



2 AGORA, ESCOLHA A PALAVRA QUE VOCÊ MAIS GOSTOU DE APRENDER E ESCREVA UMA FRASE BEM BONITA COM ELA:





COPA DO MUNDO 2026



Nome: _____ Data: ___/___/___

★ Atividades de português ★

1 ENCONTRE E PINTE NO QUADRO ABAIXO AS PALAVRAS QUE FIZERAM PARTE DOS NOSSOS ESTUDOS:

- ❖ BOLA
- ❖ CAMPEÃO
- ❖ ESTÁDIO
- ❖ MASCOTE
- ❖ RESPEITO

A	P	E	S	T	Á	D	I	O
M	A	S	C	O	T	E	Z	X
P	R	E	S	P	E	I	T	O
U	I	T	V	C	M	S	A	K
C	A	M	P	E	Ã	O	Y	L
E	F	U	J	B	O	L	A	T



2 AGORA, ESCOLHA A PALAVRA QUE VOCÊ MAIS GOSTOU DE APRENDER E ESCREVA UMA FRASE BEM BONITA COM ELA:





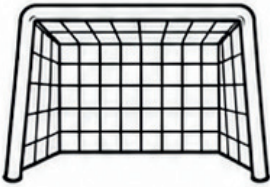
COPA DO MUNDO 2026



Nome: _____ Data: ____/____/____

★ Atividades de Português ★

1 PINTE SOMENTE OS ELEMENTOS RELACIONADOS À COPA DO MUNDO.



2 ORDENE AS PALAVRAS E ESCREVA A FRASE CORRETAMENTE.

DO

A

COPA


É

MUNDO

MAIOR

FUTEBOL.

3 FAÇA UM CARTAZ PARA TORCER PELO SEU TIME OU SELEÇÃO.





COPA DO MUNDO 2026



Nome: _____ Data: ___/___/___

★ Atividades de Português ★

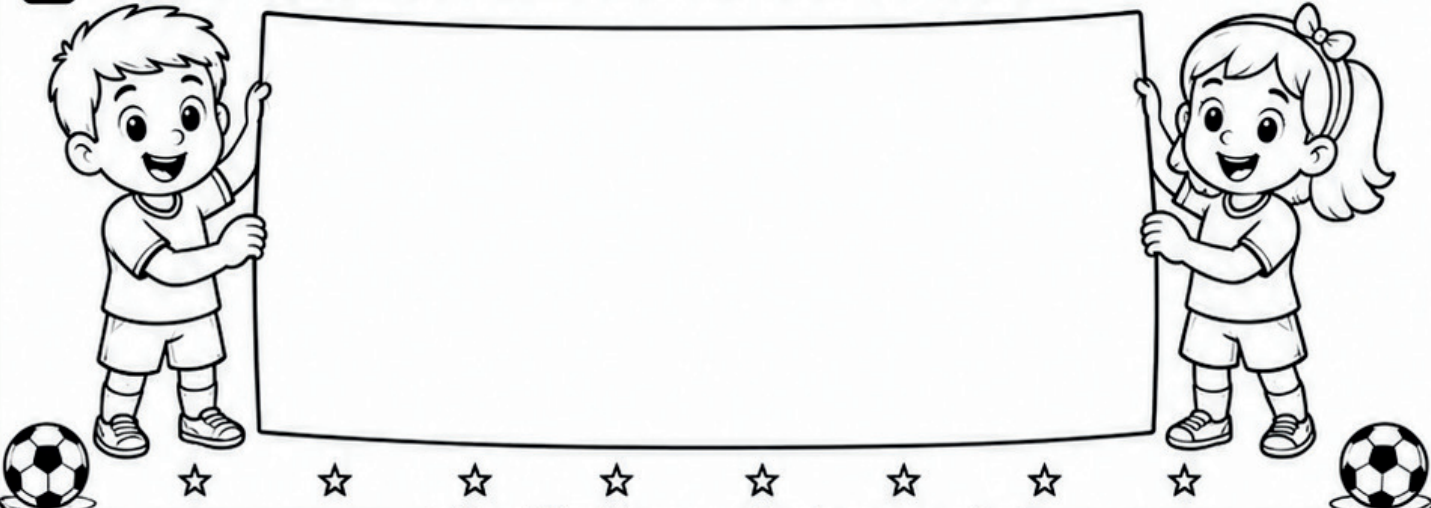
1 PINTÉ SOMENTE OS ELEMENTOS RELACIONADOS À COPA DO MUNDO.



2 ORDENE AS PALAVRAS E ESCREVA A FRASE CORRETAMENTE.

DO A COPA É MUNDO MAIOR FUTEBOL.

3 FAÇA UM CARTAZ PARA TORCER PELO SEU TIME OU SELEÇÃO.





COPA DO MUNDO 2026

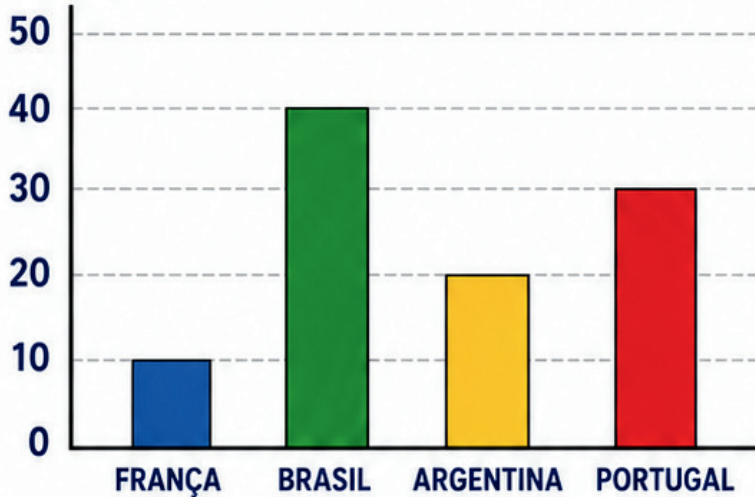


NOME: _____ DATA: ____/____/____

Atividades de Matemática

1 OBSERVE O GRÁFICO ABAIXO FEITO EM UMA TURMA E RESPONDA:

ALUNOS



A) QUAL O PAÍS MAIS VOTADO?

B) QUAL O PAÍS MENOS VOTADO?

C) QUANTOS ALUNOS VOTARAM AO TODO?

2 RESOLVA AS SITUAÇÕES - PROBLEMAS.

A) O TIME (A) FEZ 4 GOLS E O TIME (B) FEZ 2. QUEM VENCEU?



B) EM UMA SALA, 18 ALUNOS GOSTAM DE FUTEBOL E 7 NÃO GOSTAM. QUANTOS ALUNOS HÁ AO TODO?



C) UM JOGADOR MARCOU 3 GOLS EM UM JOGO E 2 EM OUTRO. QUANTOS GOLS ELE FEZ?



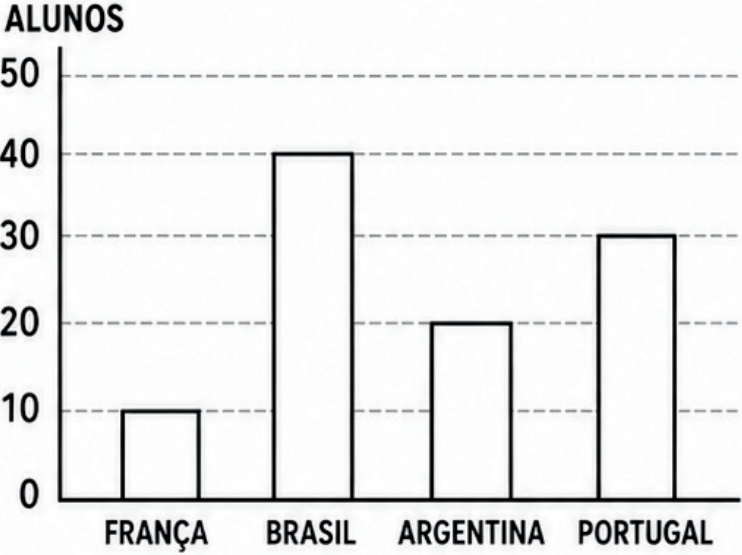
D) EM UM ESTÁDIO, HAVIA 120 TORCEDORES DE UM TIME E CHEGARAM MAIS 30 TORCEDORES. QUANTOS TORCEDORES FICARAM NO TOTAL?



NOME: _____ DATA: ____/____/____

Atividades de Matemática

1 OBSERVE O GRÁFICO ABAIXO FEITO EM UMA TURMA E RESPONDA:



- A) QUAL O PAÍS MAIS VOTADO?

- B) QUAL O PAÍS MENOS VOTADO?

- C) QUANTOS ALUNOS VOTARAM AO TODO?

2 RESOLVA AS SITUAÇÕES - PROBLEMAS.

A) O TIME (A) FEZ 4 GOLS E O TIME (B) FEZ 2. QUEM VENCEU?



B) EM UMA SALA, 18 ALUNOS GOSTAM DE FUTEBOL E 7 NÃO GOSTAM. QUANTOS ALUNOS HÁ AO TODO?



C) UM JOGADOR MARCOU 3 GOLS EM UM JOGO E 2 EM OUTRO. QUANTOS GOLS ELE FEZ?



D) EM UM ESTÁDIO, HAVIA 120 TORCEDORES DE UM TIME E CHEGARAM MAIS 30 TORCEDORES. QUANTOS TORCEDORES FICARAM NO TOTAL?





COPA DO MUNDO 2026



Nome: _____ Data: ___/___/___

★ Atividades de Matemática ★

1 RESOLVA AS ADIÇÕES.


 $5 + 2 = \square$


 $8 + 1 = \square$


 $4 + 4 = \square$


 $7 + 3 = \square$

2 RESOLVA AS SUBTRAÇÕES.

 $9 - 2 = \square$

 $10 - 5 = \square$

 $8 - 3 = \square$

 $7 - 1 = \square$

3 COMPLETE A SEQUÊNCIA NUMÉRICA.

$11 - 12 - \square - 14 - \square$

$16 - \square - 18 - \square - 20$

$21 - 22 - \square - \square - 25$

4 OBSERVE E RESPONDA.



 EM UM TIME HÁ 11 JOGADORES.

A) QUANTOS JOGADORES HÁ EM 2 TIMES?

$11 + 11 = \square$

B) SE 3 JOGADORES SAÍREM, QUANTOS FICAM?

$22 - 3 = \square$

5 PINTE A RESPOSTA CORRETA.

 QUAL É O MAIOR NÚMERO?


 15  9  18

 QUAL É O MENOR NÚMERO?

 20  7  13

6 LIGUE A OPERAÇÃO AO RESULTADO.

$5 + 5$	•	•	6
$9 - 3$	•	•	10
$4 + 2$	•	•	8


7 DESAFIO DA COPA 

O BRASIL FEZ 3 GOLS NO PRIMEIRO JOGO E 2 GOLS NO SEGUNDO.


QUANTOS GOLS O BRASIL FEZ AO TODO?


CONTA:


$\square + \square = \square$




8 DESENHE E PINTE:

 3 BOLAS

 2 TRAVES

 1 TAÇA




COPA DO MUNDO 2026





Nome: _____ Data: ___/___/___


★ Atividades de Matemática ★

1 RESOLVA AS ADIÇÕES.


 $5 + 2 = \square$


 $8 + 1 = \square$


 $4 + 4 = \square$


 $7 + 3 = \square$

2 RESOLVA AS SUBTRAÇÕES.

 $9 - 2 = \square$

 $10 - 5 = \square$

 $8 - 3 = \square$

 $7 - 1 = \square$

3 COMPLETE A SEQUÊNCIA NUMÉRICA.


11 - 12 - ___ - 14 - ___

16 - ___ - 18 - ___ - 20

21 - 22 - ___ - ___ - 25

4 OBSERVE E RESPONDA.



 EM UM TIME HÁ 11 JOGADORES.

A) QUANTOS JOGADORES HÁ EM 2 TIMES?

$11 + 11 = \square$

B) SE 3 JOGADORES SAÍREM, QUANTOS FICAM?

$22 - 3 = \square$

5 PINTE A RESPOSTA CORRETA.

 QUAL É O MAIOR NÚMERO?



 QUAL É O MENOR NÚMERO?



6 LIGUE A OPERAÇÃO AO RESULTADO.

$5 + 5$ • • 6

$9 - 3$ • • 10

$4 + 2$ • • 8

7 DESAFIO DA COPA

O BRASIL FEZ 3 GOLS NO PRIMEIRO JOGO E 2 GOLS NO SEGUNDO.

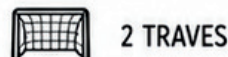
QUANTOS GOLS O BRASIL FEZ AO TODO?

CONTA:

$\square + \square = \square$



8 DESENHE E PINTE:






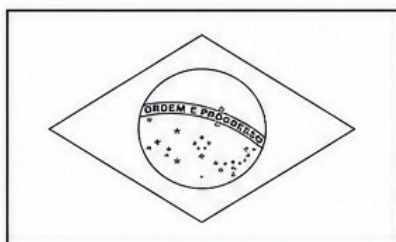


COPA DO MUNDO 2026



Nome: _____ Data: ____/____/____

★ Atividades de Geografia ★

1- LIGUE CADA BANDEIRA AO SEU RESPECTIVO PAÍS E PINTE-AS:



AUSTRÁLIA

BRASIL

COSTA RICA

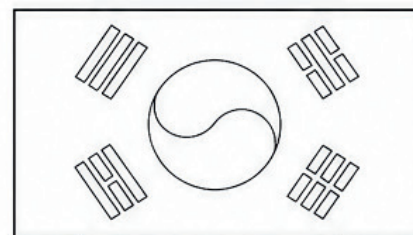


RÚSSIA

COLÔMBIA

COREIA DO SUL

FRANÇA

ARGENTINA






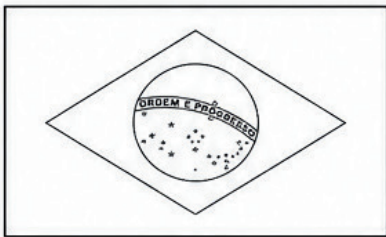



COPA DO MUNDO 2026



Nome: _____ Data: ___/___/___

★ Atividades de Geografia ★

1- LIGUE CADA BANDEIRA AO SEU RESPECTIVO PAÍS E PINTE-AS:



AUSTRÁLIA

BRASIL

COSTA RICA

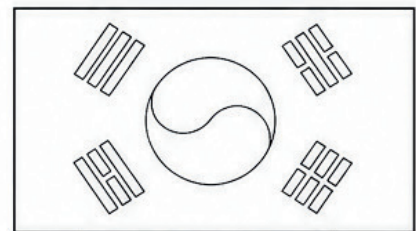



RÚSSIA

COLÔMBIA

COREIA DO SUL

FRANÇA

ARGENTINA





COPA DO MUNDO 2026



Nome: _____ Data: ____/____/____

★ Atividades de História ★

PAISES E CULTURAS

TEXTO

A Copa do Mundo reúne pessoas de diferentes países e culturas. Durante o evento, os torcedores conhecem costumes e tradições de várias partes do mundo. O futebol ajuda a aproximar as pessoas.



1 O que a Copa do Mundo reúne?

2 O que os torcedores podem conhecer durante o evento?

3 Qual é a mensagem principal do texto?

4 Retire duas palavras com mais de 6 letras.

_____ e _____





COPA DO MUNDO 2026



Nome: _____ Data: ___/___/___

★ Atividades de História ★

PAISES E CULTURAS

TEXTO

A Copa do Mundo reúne pessoas de diferentes países e culturas. Durante o evento, os torcedores conhecem costumes e tradições de várias partes do mundo. O futebol ajuda a aproximar as pessoas.



- 1 O que a Copa do Mundo reúne?

- 2 O que os torcedores podem conhecer durante o evento?

- 3 Qual é a mensagem principal do texto?

- 4 Retire duas palavras com mais de 6 letras.
_____ e _____





COPA DO MUNDO 2026




Nome: _____ Data: ___/___/___

★ Atividades de Ciências ★

ALIMENTAÇÃO DOS JOGADORES

Os atletas precisam manter uma alimentação equilibrada para ter energia durante os treinos e jogos. Frutas, verduras, legumes e água fazem parte dos hábitos saudáveis de muitos esportistas.









- 1 Por que os atletas precisam se alimentar bem?

- 2 Quais alimentos são citados no texto?

- 3 Qual a importância da água para o corpo?

- 4 Marque os alimentos saudáveis.

 <input type="checkbox"/>	 <input type="checkbox"/>	 <input type="checkbox"/>	 <input type="checkbox"/>	 <input type="checkbox"/>	 <input type="checkbox"/>
---	---	---	--	---	---

- 5 Escreva três hábitos saudáveis.
 1. _____
 2. _____
 3. _____
- 6 Produza uma frase sobre alimentação saudável.



COPA DO MUNDO 2026




Nome: _____ Data: ___/___/___

★ Atividades de Ciências ★

ALIMENTAÇÃO DOS JOGADORES

Os atletas precisam manter uma alimentação equilibrada para ter energia durante os treinos e jogos. Frutas, verduras, legumes e água fazem parte dos hábitos saudáveis de muitos esportistas.

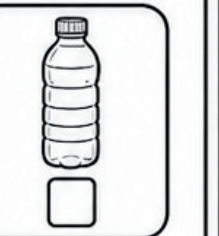




1 Por que os atletas precisam se alimentar bem?

2 Quais alimentos são citados no texto?

3 Qual a importância da água para o corpo?

4 Marque os alimentos saudáveis.



5 Escreva três hábitos saudáveis.

1. _____
2. _____
3. _____

6 Produza uma frase sobre alimentação saudável.





COPA DO MUNDO 2026



Nome: _____ Data: ___/___/___

★ Atividades da Copa do Mundo ★

1 LIGUE AS BANDEIRAS AOS PAÍSES CORRESPONDENTES.



CANADÁ



MÉXICO



ESTADOS UNIDOS

2 complete o texto com as palavras do quadro.

FUTEBOL

COPA

PAÍSES

TORCIDA

MUNDO

A _____ DO _____ REÚNE VÁRIOS

_____ DE DIFERENTES LUGARES.

MILHÕES DE PESSOAS ACOMPANHAM OS JOGOS E FAZEM

PARTE DE UMA GRANDE _____.

O _____ É MAIS DO QUE UM ESPORTE,

É UNIÃO, RESPEITO E AMIZADE!



3 ESCREVA QAIS VALORES DEVEMOS TER DENTRO E FORA DO CAMPO.





COPA DO MUNDO 2026



Nome: _____ Data: __/__/__

★ Atividades da Copa do Mundo ★


1 LIGUE AS BANDEIRAS AOS PAÍSES CORRESPONDENTES.



CANADÁ



MÉXICO



ESTADOS UNIDOS

2 complete o texto com as palavras do quadro.

FUTEBOL

COPA

PAÍSES

TORCIDA

MUNDO

A _____ DO _____ REÚNE VÁRIOS
_____ DE DIFERENTES LUGARES.

MILHÕES DE PESSOAS ACOMPANHAM OS JOGOS E FAZEM
PARTE DE UMA GRANDE _____.

O _____ É MAIS DO QUE UM ESPORTE,
É UNIÃO, RESPEITO E AMIZADE!



3 ESCREVA QAIS VALORES DEVEMOS TER DENTRO E FORA DO CAMPO.





ATENÇÃO: AVISO IMPORTANTE SOBRE DIREITOS AUTORAIS

Posso compartilhar o material com outros professores?

O material é oferecido para uso pessoal e em sala de aula. Contudo, é fundamental respeitar os direitos autorais:

- Permitido: Imprimir quantas vezes desejar para uso com seus alunos. Se quiser enviar para outros professores, pedimos que, por gentileza, **compartilhar material usando o link do artigo do Blog Ello Educar.**
- Não permitido: Qualquer forma de plágio, cópia, reprodução, redistribuição ou venda, total ou parcial, sem autorização da autora **Lídia Maria Sousa de Lima**, conforme a Lei nº 9.610/98.

**Agradecemos pela leitura e por valorizar
nosso esforço, feito com dedicação para
apoiar o seu dia a dia na educação.**

Gostou desse material?

Nos siga em nossas redes sociais e fique por dentro das nossas atualizações



[@_elloeducar](https://www.instagram.com/_elloeducar)



Blog [Ello Educar](https://www.facebook.com/ElloEducar)



[Ello Educar](https://www.pinterest.com/ElloEducar)



Fale conosco por meio de nossa e-mail:

contato@elloeducar.com.br

Ou através de nosso formulário de contato

[Contato - Ello Educar](#)



Acompanhe o nosso blog e não perca nenhuma atualização!

Adicione nosso site aos seus favoritos e tenha acesso diário a conteúdos educativos, artigos exclusivos, planos de aula e sugestões de atividades para enriquecer sua prática pedagógica. Inspire-se, compartilhe e transforme sua sala de aula com a gente!



[Blog Ello Educar](#)