

NOME: _____

DATA: ____/____/____

PROFESSOR(A): _____

TURMA: _____

CADERNO

INTERDISCIPLINAR

Dia das Mães

4º ANO

Mãe:
meu porto seguro,
meu maior
presente!

Seu amor me
ensina, seu carinho
me fortalece,
sua presença me
faz feliz!

Você é
meu
inspiração!



LÍNGUA
PORTUGUESA



MATEMÁTICA



CIÊNCIAS



GEOGRAFIA



HISTÓRIA



ARTE

DIA DAS MÃES

Atividades de Português

NOME: _____

DATA: ____/____/____

PROFESSOR(A): _____

TURMA: _____

O AMOR QUE ACOLHE

Ser mãe é muito mais do que dar à luz.
É cuidar, proteger, ensinar e amar todos os dias.
É estar presente nos momentos felizes e também nos difíceis, com paciência, força e carinho.

Cada mãe tem sua própria história e seu jeito único de amar. Não importa se é mãe de barriga, de coração, de criação ou de vida inteira... Todas merecem nosso respeito, gratidão e amor.

Neste Dia das Mães, celebre quem te acolhe, te incentiva e acredita em você todos os dias!



1 INTERPRETAÇÃO

Qual é o tema principal do texto?

- () A importância dos professores.
- () A importância das mães.
- () As festas de aniversário.



2 COMPREENSÃO

Segundo o texto, o que significa ser mãe?



3 VERDADEIRO OU FALSO

Marque V para verdadeiro e F para falso.

- () Ser mãe é apenas dar à luz.
- () Toda mãe merece respeito e gratidão.
- () As mães não precisam ter paciência.



4 PRODUÇÃO DE TEXTO

Escreva uma mensagem para sua mãe falando o que você mais admira nela.



5 ATIVIDADE LÚDICA – DESENHE

Desenhe você com sua mãe em um momento especial.



**VOCÊ É
MEU MAIOR
EXEMPLO DE
AMOR!**



PARA REFLETIR
O amor de mãe é o combustível que permite a um ser humano fazer o impossível.



**FELIZ
DIA DAS MÃES!**



DIA DAS MÃES

Atividades de Matemática

NOME: _____

DATA: ____/____/____

PROFESSOR(A): _____

TURMA: _____

Blog Ello Educar - elloeducar.com.br

COMPRANDO UM PRESENTE PARA A MAMÃE

No Dia das Mães, Ana foi à feira com seu pai para comprar um presente especial.

Eles compraram:

- 2 vasos de flores por R\$ 15 cada
- 1 caixa de chocolates por R\$ 18
- 1 cartão por R\$ 7

Ana ajudou a fazer as contas para saber quanto gastaram e quanto faltava para pagar com R\$ 60.



1 Multiplicação e adição

Quanto foi gasto com os vasos de flores?

$$15 + 15 = \underline{\hspace{2cm}}$$

ou

$$2 \times 15 = \underline{\hspace{2cm}}$$



2 Soma total

Quanto Ana e seu pai gastaram ao todo?

$$15 + 15 + 18 + 7 = \underline{\hspace{2cm}}$$



3 Situação-problema

Eles pagaram com R\$ 60.
Quanto receberam de troco?

$$60 - \underline{\hspace{2cm}} = \underline{\hspace{2cm}}$$



4 Decomposição

Decomponha o valor total gasto.
Exemplo: $40 = 30 + 10$

Resposta: $\underline{\hspace{2cm}} = \underline{\hspace{2cm}} + \underline{\hspace{2cm}} + \underline{\hspace{2cm}}$ 

5 Problema do cotidiano


Se Ana tivesse comprado mais 1 vaso de flores,
quanto seria o novo total?

Resposta: _____



ATIVIDADE LÚDICA

Desenhe o presente que você
daria para sua mãe
e escreva quanto ele custaria:

Preço: R\$ _____ 



DIA DAS MÃES

Atividades de História

NOME: _____

DATA: ____ / ____ / ____

PROFESSOR(A): _____

TURMA: _____

Blog Ello Educar - elloeducar.com.br

A HISTÓRIA DO DIA DAS MÃES

O Dia das Mães é uma homenagem especial que existe há muito tempo.

Na Grécia Antiga, havia festas para a deusa Reia, mãe de vários deuses.

Na Idade Média, na Inglaterra, as pessoas celebravam o "Domingo das Mães" em homenagem à Virgem Maria, mãe de Jesus.

No Brasil, o Dia das Mães começou a ser comemorado oficialmente em 1932, por iniciativa do presidente Getúlio Vargas, no segundo domingo de maio.

É uma data para agradecer, valorizar e reconhecer o amor, o cuidado e a dedicação de todas as mães!



1 INTERPRETAÇÃO DE TEXTO

a) Sobre o que fala o texto?

- Sobre as escolas do Brasil.
 Sobre a história do Dia das Mães.

b) De acordo com o texto, na Grécia Antiga, as mães eram homenageadas em festas para qual deusa?

c) Na Inglaterra, como era chamada a celebração em homenagem às mães?

d) Em que ano o Dia das Mães passou a ser comemorado oficialmente no Brasil?

e) Qual é o mês em que comemoramos o Dia das Mães?

2 ORDEM CRONOLÓGICA

Coloque os fatos abaixo na ordem em que aconteceram.

- Comemoração do Dia das Mães no Brasil.
 Festas para a deusa Reia na Grécia Antiga.
 Celebração do "Domingo das Mães" na Inglaterra.

3 VOCÊ SABIA?

Na sua família, quem cuida de você com amor todos os dias?
Desenhe ou escreva.



4 VALORES

Marque com um X os valores que devemos ter com nossas mães.

- Carinho
 Respeito
 Gratidão
 Indiferença
 Amor
 Desobediência



ATIVIDADE LÚDICA

LINHA DO TEMPO – HISTÓRIA DO DIA DAS MÃES

Recorte as imagens e os textos abaixo e cole na linha do tempo na ordem correta dos acontecimentos. Depois, pinte e enfeite como quiser!



GRÉCIA ANTIGA

INGLATERRA – IDADE MÉDIA


BRASIL – 1932



Na Grécia Antiga, havia festas em homenagem à deusa Reia, mãe de vários deuses.



Na Inglaterra, na Idade Média, as pessoas celebravam o "Domingo das Mães" em homenagem à Virgem Maria.



No Brasil, o Dia das Mães foi oficializado em 1932, por iniciativa do presidente Getúlio Vargas.

INGLATERRA – IDADE MÉDIA

GRÉCIA ANTIGA

BRASIL – 1932

DICA PARA PROFESSORES

Essa atividade desenvolve:

- Noção de tempo histórico
 Compreensão de transformações culturais
 Habilidades de leitura, recorte e organização cronológica

DIA DAS MÃES

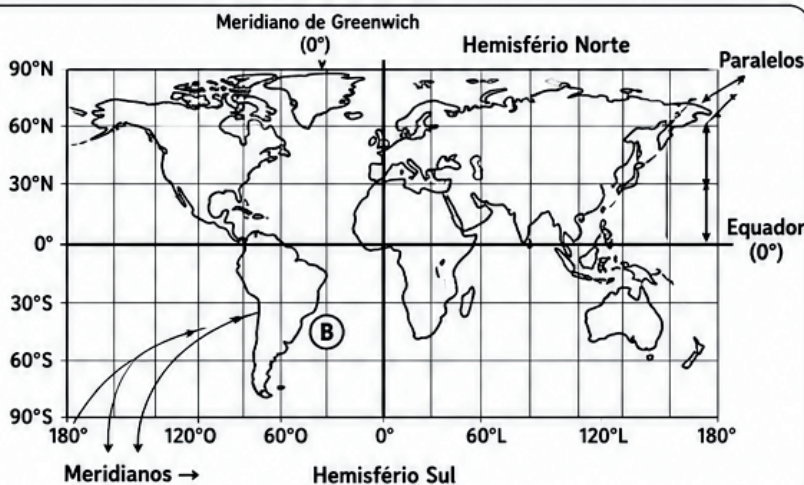
Atividades de Geografia

NOME: _____ DATA: ____/____/____
 PROFESSOR(A): _____ TURMA: _____

1 PARALELOS E MERIDIANOS

Observe o planisfério ao lado e responda:

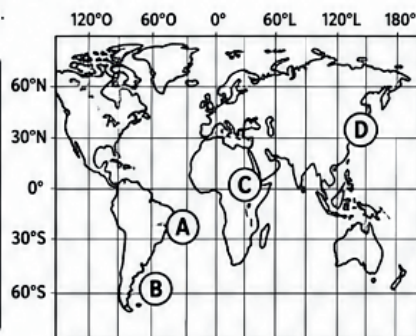
- O que são paralelos? _____
- O que são meridianos? _____
- Qual é o paralelo que divide a Terra em Hemisfério Norte e Hemisfério Sul? _____
- Qual é o meridiano que divide a Terra em Hemisfério Leste e Hemisfério Oeste? _____



2 LOCALIZAÇÃO GEOGRÁFICA

Observe as coordenadas e escreva o nome do lugar marcado no mapa-múndi.

- A (23,5° N; 46° O) → _____
 B (30° S; 60° O) → _____
 C (0°; 20° L) → _____
 D (35° N; 139° L) → _____



3 ELEMENTOS DA CARTOGRAFIA

Enumere corretamente os elementos de um mapa.

- () Título
 () Legenda
 () Escala
 () Fonte
 () Rosa dos Ventos



4 ORIENTAÇÃO PELO MAPA

Observe a rosa dos ventos ao lado e responda:

- Qual direção está à frente de quem está voltado para o Norte? _____
- Qual direção está à direita de quem está voltado para o Oeste? _____
- Qual direção está oposta ao Sul? _____
- Complete: Entre o Norte e o Leste está o _____



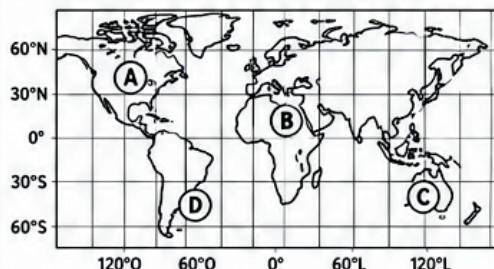
5 INSTRUMENTOS E EQUIPAMENTOS DE LOCALIZAÇÃO

Escreva a função de cada instrumento e equipamento abaixo.

- GPS → _____
 BÚSSOLA → _____
 SATÉLITE → _____

6 COORDENADAS GEOGRÁFICAS

Observe o mapa e responda às questões.



Escreva as coordenadas aproximadas dos pontos:

- A (____° ; ____°)
 B (____° ; ____°)
 C (____° ; ____°)
 D (____° ; ____°)


Qual ponto está:

- No Hemisfério Norte e a Oeste de Greenwich? _____
- No Hemisfério Sul e a Leste de Greenwich? _____
- Sobre a linha do Equador? _____

7 ATIVIDADE LÚDICA

Crie seu próprio mapa para mostrar o caminho da sua casa até a escola. Use os elementos da cartografia e inclua:

- ♥ Título
 ♥ Legenda
 ♥ Rosa dos Ventos
 ♥ Escala
 ♥ Pontos de referência (ex: padaria, praça, etc.)



DIA DAS MÃES

Atividades de Ciências

NOME: _____

DATA: ____/____/____

PROFESSOR(A): _____

TURMA: _____

O CORPO DA MAMÃE É INCRÍVEL!

O corpo humano é formado por diferentes sistemas que trabalham juntos para manter a vida e a saúde. No corpo da mamãe, cada parte tem uma função importante.

- o O sistema digestório transforma os alimentos em nutrientes que dão energia.
- o O sistema circulatório leva sangue e oxigênio para todas as partes do corpo.
- o O sistema respiratório permite que a mamãe respire o ar e obtenha oxigênio.

Além disso, hábitos saudáveis como alimentação equilibrada, hidratação, atividade física e descanso são essenciais para manter o corpo forte e saudável.



1 INTERPRETAÇÃO DE TEXTO

a) Qual é o assunto principal do texto?

b) Quais são os sistemas do corpo humano mencionados no texto?

c) Por que é importante ter hábitos saudáveis?

d) Cite dois hábitos saudáveis mencionados no texto.

2 SISTEMAS DO CORPO HUMANO

Relacione cada sistema à sua função correta.

- (1) Sistema digestório () Respira o ar e obtém oxigênio.
(2) Sistema circulatório () Leva sangue e oxigênio para todas as partes do corpo.
(3) Sistema respiratório () Transforma os alimentos em nutrientes que dão energia.

3 VERDADEIRO OU FALSO

Marque V para verdadeiro e F para falso.

- a) () O sistema respiratório ajuda o corpo a respirar.
b) () O sistema circulatório é responsável pela digestão.
c) () O sistema digestório transforma os alimentos em energia.
d) () Beber água ajuda o corpo a funcionar bem.

4 CUIDANDO DA SAÚDE

Marque as atitudes que ajudam a manter o corpo saudável.

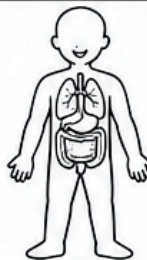
- () Comer alimentos industrializados todos os dias.
() Beber bastante água.
() Praticar atividades físicas.
() Dormir bem.
() Comer frutas, verduras e legumes.
() Ficar muitas horas em frente à TV ou ao celular.



5 LIGUE CORRETAMENTE

Ligue cada órgão à parte do sistema do qual ele faz parte.

- | | | |
|----------------|---|------------------------|
| (1) Estômago | • | • Sistema circulatório |
| (2) Coração | • | • Sistema respiratório |
| (3) Pulmões | • | • Sistema digestório |



6 ALIMENTAÇÃO SAUDÁVEL

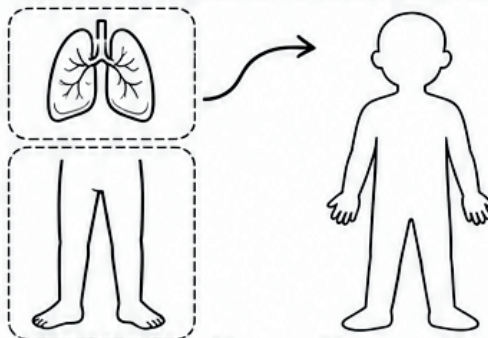
Escreva dois alimentos saudáveis que fazem bem para o corpo.

1. _____
2. _____

ATIVIDADE LÚDICA

QUEBRA-CABEÇA: CORPO HUMANO

Recorte as peças abaixo, monte o corpo humano e cole no espaço ao lado. Depois, escreva o nome de dois sistemas estudados no texto e sua função.



SISTEMA: _____

FUNÇÃO: _____

SISTEMA: _____

FUNÇÃO: _____

DIA DAS MÃES

Atividades de Artes



NOME: _____


DATA: ____/____/____

PROFESSOR(A): _____

TURMA: _____


1 CORES DO AMOR

Pinte o coração usando as cores que representam o amor que você sente pela sua mãe.



2 RETRATO ESPECIAL

Faça um lindo retrato da sua mãe ou de um momento especial que vocês viveram juntos.




3 CARTÃO CRIATIVO

Crie um cartão especial para sua mãe. Desenhe, pinte e escreva uma mensagem bonita!



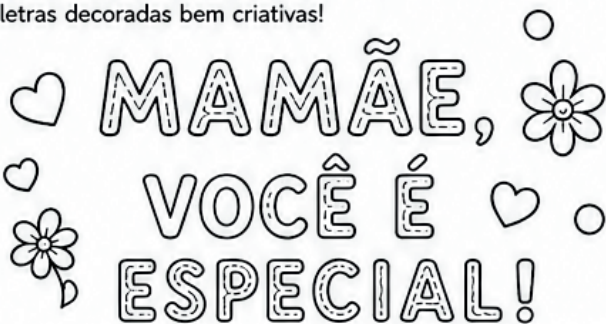
4 COLAGEM MATERNA

Recorte de revistas, jornais ou papéis coloridos imagens que representem sua mãe (flores, corações, palavras, objetos que ela gosta...) e cole dentro do coração.




5 MENSAGEM ARTÍSTICA

Escreva uma mensagem para sua mãe usando letras decoradas bem criativas!



6 ARTE COM FORMAS

Use as formas geométricas abaixo para criar um presente para sua mãe. Depois, pinte bem bonito!



★ REFLITA E RESPONDA:

O que você mais admira na sua mãe? _____





ATENÇÃO: AVISO IMPORTANTE SOBRE DIREITOS AUTORAIS

Posso compartilhar o material com outros professores?

O material é oferecido para uso pessoal e em sala de aula. Contudo, é fundamental respeitar os direitos autorais:

- Permitido: Imprimir quantas vezes desejar para uso com seus alunos. Se quiser enviar para outros professores, pedimos que, por gentileza, **compartilhar material usando o link do artigo do Blog Ello Educar.**
- Não permitido: Qualquer forma de plágio, cópia, reprodução, redistribuição ou venda, total ou parcial, sem autorização da autora **Lídia Maria Sousa de Lima**, conforme a Lei nº 9.610/98.

**Agradecemos pela leitura e por valorizar
nosso esforço, feito com dedicação para
apoiar o seu dia a dia na educação.**

Gostou desse material?

Nos siga em nossas redes sociais e fique por dentro das nossas atualizações



[@_elloeducar](https://www.instagram.com/_elloeducar)



Blog [Ello Educar](https://www.facebook.com/ElloEducar)



[Ello Educar](https://www.pinterest.com/ElloEducar)



Fale conosco por meio de nossa e-mail:

contato@elloeducar.com.br

Ou através de nosso formulário de contato

[Contato - Ello Educar](#)

📌 Acompanhe o nosso blog e não perca nenhuma atualização!

Adicione nosso site aos seus favoritos e tenha acesso diário a conteúdos educativos, artigos exclusivos, planos de aula e sugestões de atividades para enriquecer sua prática pedagógica. Inspire-se, compartilhe e transforme sua sala de aula com a gente!



[Blog Ello Educar](#)