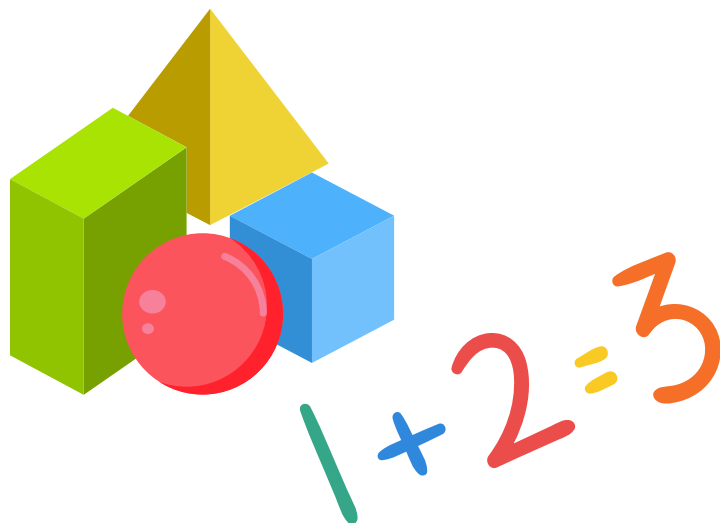




Atividades Juninas

Matemática



2º ano
Ensino Fundamental

Nome: _____ Data: _____

Matemática Junina

OBSERVE ATENTAMENTE A TABELA DE PREÇOS DA FESTA JUNINA E RESOLVA OS PROBLEMAS ABAIXO:

TABELA DE PREÇOS	
CHURRASCO.....	3 REAIS
REFRIGERANTE.....	2 REAIS
ÁGUA	1 REAL
PIPOCA	2 REAIS
BOLO DE FUBÁ.....	3 REAIS
DOCES TÍPICOS.....	2 REAIS
MILHO	2 REAIS
BRINCADEIRAS.....	2 REAIS
CARTELA DE BINGO.....	1 REAL



1. ROSINHA QUER COMPRAR 2 REFRIGERANTES, 1 CHURRASCO E 1 PEDAÇO DO DELICIOSO BOLO DE FUBÁ. QUANTO ELA DEVERÁ PAGAR?

RESPOSTA: _____



2. CHICO QUER COMPRAR 2 CHURRASCOS, 1 ÁGUA, 3 FICHAS DE BRINCADEIRAS E 1 DOCE TÍPICO. PARA PAGAR, ELE USARÁ UMA NOTA DE 20 REAIS. DE QUANTO SERÁ SEU TROCO?

RESPOSTA: _____



3. ZÉ LELÉ TEM 10 REAIS PARA GASTAR NA FESTA. ELE QUER GASTAR TUDO, COMENDO E SE DIVERTINDO. ESCREVA TRÊS SUGESTÕES DE FORMAS COM AS QUAIS ELE PODERÁ GASTAR SEUS 10 REAIS NA FESTA:



- A. _____
B. _____
C. _____

Nome: _____ Data: _____


Matemática Junina

OBSERVE A TABELA DE PREÇOS:


CANJICA	3 REAIS
MILHO	5 REAIS
AMENDOIM	4 REAIS
BOLO	5 REAIS
PIPOCA	2 REAIS
PASTEL	4 REAIS
PINHÃO	3 REAIS



QUANTO VOU GASTAR SE COMPRAR:



REAIS



REAIS



REAIS



REAIS



REAIS



REAIS

Nome: _____ Data: _____

Matemática Junina

COMPRANDO NA FESTA JUNINA

OBSERVE A TABELA DE PREÇO



CACHORRO QUENTE	4 REAIS
MILHO VERDE	3 REAIS
PIPOCA	2 REAIS
CANJICA	2 REAIS
BOLO DE FUBÁ	3 REAIS
REFRIGERANTE	4 REAIS
ÁGUA	1 REAL



QUANTOS REAIS VOCÊ IRÁ GASTAR SE COMPRAR...



REAIS



REAIS



REAIS



REAIS



REAIS



REAIS

Nome: _____ Data: _____

Matemática Junina

UAU, QUANTAS BANDEIROLAS!



1- QUANTAS BANDEIROLAS?

2- PINTE UMA DEZENA DE AMARELO.

3- PINTE UMA DÚZIA DE AZUL.

4- CIRCULE DE DUAS EM DUAS E ANOTE QUANTOS PARES FORAM FORMADOS.

5 – SE EU TIRAR 12 BANDEIROLAS, QUANTAS FICARÃO?

6 – QUANTAS FALTAM PARA COMPLETAR 4 DEZENAS?

Nome: _____ Data: _____

MATEMÁTICA NA FESTA JUNINA

CEBOLINHA E MAGALI FORAM COMPRAR PIPOCAS NA BARRAQUINHA DA FESTA JUNINA.



1) QUANTOS SAQUINHOS DE PIPOCAS TEM ACIMA?

() 1 DÚZIA

() 1 DEZENA

2) DISTRIBUA IGUALMENTE OS SAQUINHOS DE PIPOCAS ENTRE MAGALI E CEBOLINHA. FAÇA UMA LINHA LIGANDO.

3) QUANTOS SAQUINHOS DE PIPOCAS GANHOU CADA?

() 5 SAQUINHOS

() 4 SAQUINHOS

() 6 SAQUINHOS

4) CEBOLINHA DEU 3 SAQUINHOS DE PIPOCAS PARA CASCÃO.

QUANTOS SAQUINHOS SOBRARAM?

5) MAGALI COMEU TODOS OS SAQUINHOS DE PIPOCAS DELA E MAIS 2 DO CEBOLINHA. QUANTOS ELA COMEU AO TODO?

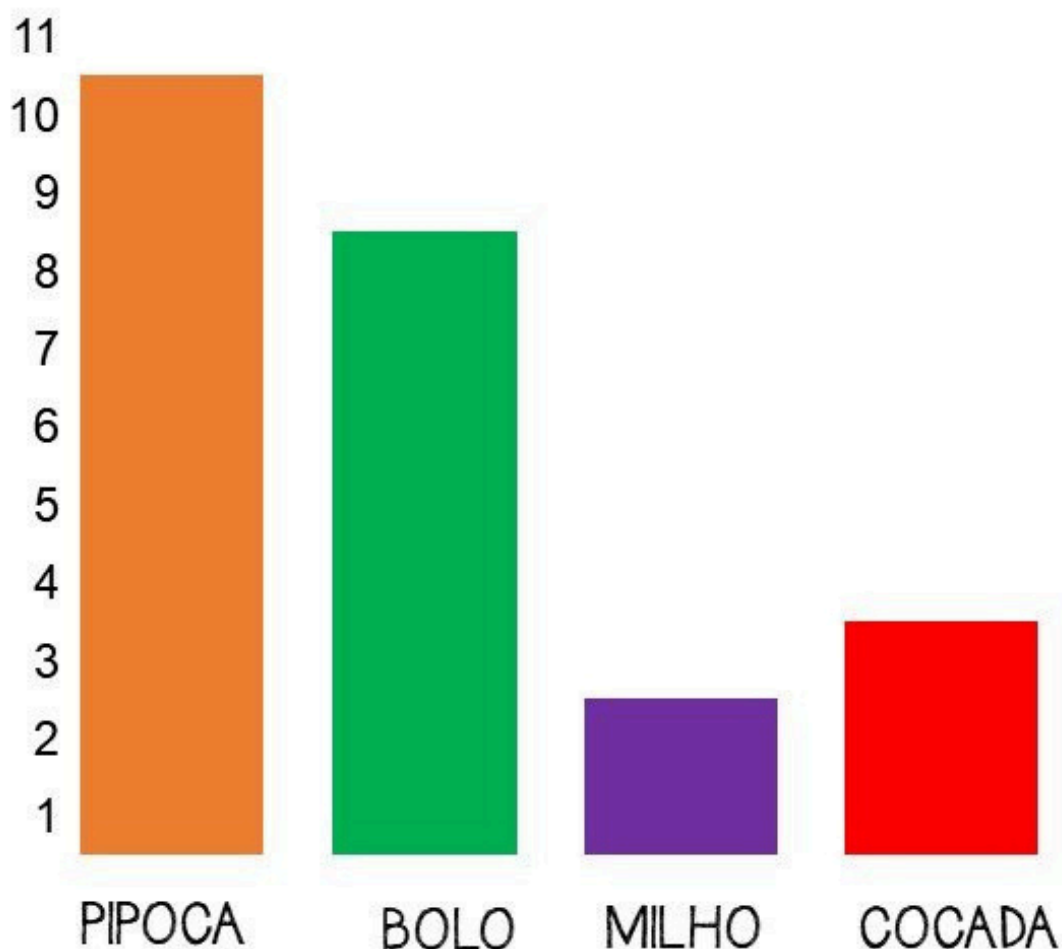
6) NO FINAL, CEBOLINHA FICOU COM

SAQUINHO DE PIPOCAS.

Nome: _____ Data: _____

Matemática Junina

NA FESTA JUNINA DA ESCOLA FORAM VENDIDOS ALGUMAS COMIDAS TÍPICAS, VEJA O QUE A TURMA DO 2º ANO COMPROU NA FESTA.



RESPONDA:

QUAL FOI A COMIDA MAIS CONSUMIDA? _____

QUAL FOI A COMIDA MENOS CONSUMIDA? _____

QUANTOS ALUNOS COMPRARAM PIPOCA? _____

QUANTOS ALUNOS COMPRARAM COCADA? _____

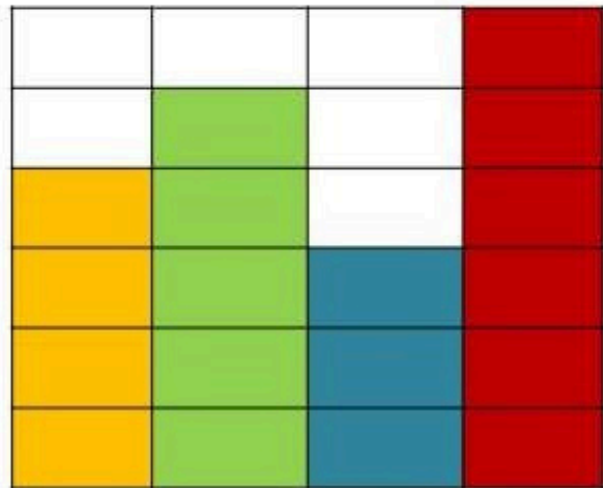
QUANTOS ALUNOS REALIZARAM AS COMPRAS? _____

Nome: _____ Data: _____

Matemática Junina

GRÁFICOS E TABELAS

Em uma festa Junina vendia-se pipoca, cachorro quente, caldinho e maçã do amor. Depois da festa, eles faziam um gráfico para saber como foram as vendas daquele ano.







Observe o gráfico acima e responda:

1- Qual foi a comida mais comprada na festa?

2- Qual foi a comida menos comprada na festa?

3- Quantos cachorros quentes foram vendidos?

Faça a soma dos números das garrafas que possui argolas.



Nome: _____ Data: _____

Matemática Junina

FESTA JUNINA



Agora, resolva os problemas abaixo:

1- José comprou 3 maçãs, 2 bolos e 1 milho. Quanto José gastou?

2- José pagou com uma nota de 50 reais, quanto ele receberá de troco?

3 - A mãe de José queria comprar 5 milhos, mas só tinha uma nota de 20 reais, quanto faltará para ela conseguir comprar?

4 - O cachorro quente que não foi colocado no caixa, custa R\$6,00 a unidade. Se Isabela comprasse 4 cachorros quentes, quanto ela gastaria?

Nome: _____ Data: _____

Matemática Junina

Resolva os probleminhas.


NA FESTA JUNINA VENDERAM 15 SACOS DE PIPOCA ANTES DE COMEÇAR A QUADRILHA E MAIS 14 SACOS ATÉ O FIM DA FESTA. QUANTOS SACOS DE PIPOCA VENDERAM?



NA FESTA JUNINA, 48 CRIANÇAS DANÇARAM QUADRILHA USANDO CHAPÉU. NO FINAL DA FESTA, 17 CRIANÇAS PERDERAM SEUS CHAPÉUS. QUANTAS CRIANÇAS AINDA FICARAM COM CHAPÉUS?



NA FESTA JUNINA A BARRACA DE MAÇÃ DO AMOR COLOCOU 35 MAÇÃS NUMA BANDEJA E 20 MAÇÃS EM OUTRA. QUANTAS MAÇÃS A BARRACA COLOCOU À VENDA?



PARA MONTAREM A FOGUEIRA DA FESTA JUNINA, FORAM CORTADOS 56 PEDAÇOS DE MADEIRA. DURANTE A FESTA USARAM SOMENTE 43 PEDAÇOS. QUANTOS PEDAÇOS DE MADEIRA SOBRARAM?



NA FESTA JUNINA UMA BARRACA VENDEU 34 ESPIGAS DE MILHO E A OUTRA BARRACA VENDEU 33 ESPIGAS. QUANTAS ESPIGAS DE MILHO FORAM VENDIDAS NA FESTA JUNINA ?



PARA A FESTA JUNINA, COMPRARAM 75 FOGOS. AO LONGO DA FESTA USARAM SOMENTE 32 FOGOS. QUANTOS FOGOS NÃO FORAM USADOS?



Gostou desse material?

Nos siga em nossas redes sociais e fique por dentro das nossas atualizações



[@elloeducar](#)



Blog [Ello Educar](#)



[Ello Educar](#)



Fale conosco por meio de nossa e-mail:

contato@elloeducar.com.br

Ou através de nosso formulário de contato
[Contato - Ello Educar](#)

 Acompanhe o nosso blog e não perca nenhuma atualização!

Adicione nosso site aos seus favoritos e tenha acesso diário a conteúdos educativos, artigos exclusivos, planos de aula e sugestões de atividades para enriquecer sua prática pedagógica. Inspire-se, compartilhe e transforme sua sala de aula com a gente!



[Blog Ello Educar](#)